



**CÂMARA MUNICIPAL DE
GOVERNADOR NUNES FREIRE - MA**
Concurso Público para o Provimento do cargo de



AGENTE ADMINISTRATIVO

LEIA AS INSTRUÇÕES:

- 1) Você deve receber do fiscal, além deste caderno contendo 40 (quarenta) questões objetivas, um cartão-resposta destinado às respostas objetivas da prova;
- 2) Verifique se este material está completo e se seus dados pessoais conferem com aqueles constantes do cartão-resposta. Caso contrário, informe ao fiscal de sala.
- 3) O tempo de duração da prova é de 03 (três) horas ininterruptas. Só será permitido ao candidato entregar sua prova após 01 (uma) hora do início da mesma, **sob pena de ser eliminado do certame.**
- 4) Ao término da prova, o candidato deverá assinar a lista de presença e o cartão-resposta e entregar ao Fiscal junto com o seu caderno de questões.
- 5) Será excluído do certame o candidato que não assinar o cartão resposta ou o fizer fora do local indicado, bem como aquele que assinar em desconformidade com a assinatura constante no documento oficial de identificação.
- 6) Tenha cuidado com o seu cartão-resposta, pois este é personalizado e não será substituído em hipótese alguma.
- 7) No cartão-resposta, a marcação das letras correspondentes às respostas de sua opção, deve ser feita com o preenchimento de todo o espaço do campo reservado para tal fim, conforme modelo ex:
- 8) Para cada uma das questões são apresentadas cinco alternativas e somente uma responde adequadamente ao quesito proposto. A marcação em mais de uma alternativa ou marcações rasuradas anulam a questão.
- 9) As Provas Objetivas e os gabaritos serão divulgados no primeiro dia útil após a realização das mesmas, no endereço eletrônico www.institutoludus.com.br a partir das 18:00h;
- 10) Por motivo de segurança não será permitido ao candidato fazer uso de qualquer tipo de anotações que não seja o rascunho integrante desta Prova que será destacado na hora da entrega pelo fiscal. Caso o candidato seja surpreendido com qualquer outro tipo de anotações em documentos que não seja o previsto acima, **será eliminado do certame.**

.....
FOLHA DE ANOTAÇÃO DO GABARITO: ATENÇÃO: Esta parte somente deverá ser destacada pelo fiscal da sala, após o término da prova.

01	02	03	04	05	06	07	08	09	10	11	12	13	14	15	16	17	18	19	20
21	22	23	24	25	26	27	28	29	30	31	32	33	34	35	36	37	38	39	40

EM BRANCO

INSCRIÇÃO:

--	--	--	--	--	--

ASSINATURA:

Leia o texto seguinte

Texto de música de Noel Rosa, música composta nos anos 30 do século passado.

Último Desejo



Nosso amor que eu não esqueço
E que teve seu começo numa festa de São João
Morre hoje sem foguete, sem recado e sem bilhete
Sem luar e sem violão

Perto de você me calo, tudo penso e nada falo
Tenho medo de chorar

Nunca mais quero seu beijo,
Mas meu último desejo, você não pode negar
Se alguma pessoa amiga, pedir que você lhe diga
Se você me quer ou não

Diga que você me adora, que você lamenta e chora a
nossa separação

E as pessoas **que** eu detesto,

Diga sempre que eu não presto, que meu lar é um
botequim

Que eu arruinei sua vida

Que eu não mereço a comida que você pagou pra mim

01. Assinale a alternativa INCORRETA:

- a) O poeta já esqueceu o amor que morreu
- b) A amor cantado na música começou no mês de junho
- c) O poeta mora em um botequim.
- d) O poeta faz da casa dele um botequim.
- e) Para o poeta, festa de São João tem foguetes.

02. O verso sublinhado começa com a conjunção “E”. Nesta música de Noel Rosa, a conjunção que inicia o verso sublinhado tem valor

- a) conclusivo
- b) adversativo
- c) aditivo
- d) causal
- e) modal

03. No mesmo verso em destaque (sublinhado), o vocábulo **detesto, sob pena de modificar o sentido do verso, **NÃO** pode ser substituído por**

- a) abomino
- b) tenho aversão
- c) execro
- d) desteto
- e) entojó

04. Sobre o verso sublinhado, pode-se afirmar

- a) Nos termos da norma culta está correto.
- b) Se observa uma metáfora.
- c) O vocábulo “pessoas” é trissílabo.
- d) “Detesto” é pretérito perfeito do verbo detestar.
- e) Observa-se a ausência de uma crase, necessária para dar sentido ao texto.

Astrobaldo Ferreira, advogado florianense que se entende como filósofo de botequim, ao escutar a música transcrita acima (Último Desejo, de Noel Rosa), teceu a consideração seguinte.

– *Como as coisas mudam. Como o mundo é **dialético**. Na época de Noel Rosa as relações afetivas não eram um **périplo** no mar da aventura, era mais uma entrega que um domínio. Hoje, não. Na atualidade, o amor é um objeto de consumo, tem paralelo com os aparelhos eletrônicos comparados no Paraguai, com **obsolescência** programada para durar pouco.*

05. Sem prejuízo do sentido dado ao texto, o termo **obsolescência pode ser permutado por**

- a) processo de se fazer arcaico, antigo
- b) coisa que não merece ser analisada
- c) tempo para cumprimento das regras
- d) algo que se torna inerte.
- e) aquilo que, a um só tempo, se desloca e se modifica.

06. O mesmo vocábulo – **obsolescência – é acentuado. Esse vocábulo é acentuado em razão de**

- a) ser paroxítono, terminado em “a”.
- b) ser proparoxítona
- c) ser paroxítona, terminada em ditongo oral
- d) ser paroxítona, terminada em ditongo crescente
- e) ser paroxítona, terminada em ditongo decrescente

07. Sem prejuízo do sentido dado ao texto, dentre as alternativas seguintes, o vocábulo **périplo pode ser substituído apenas por**

- a) façanha
- b) proeza
- c) balanço
- d) relato
- e) viagem

08. Marque a alternativa em que as quatro palavras são acentuadas graficamente em razão da mesma regra gramatical de acentuação

- a) até, lágrima, vocês, Piauí
- b) seriíssimo, cédula, público, friíssimo.
- c) paletós, alguém, lâmpada, dúplex
- d) graúdo, capô, vírus, triplex
- e) capilé, projétil, pétalas, êmbolo

09. Assinale a alternativa na qual todos os substantivos postos admitem o artigo “o”, masculino.

- a) Doente, sósia, lança-perfume, grama
- b) Dó, telefonema, diabete, cal, dinamite
- c) Clã, eclipse, pijama, praça, omoplata.
- d) Cal, eclipse, dinamite, hélice.
- e) Champanha, trema, estudante, mascote

10. Assinale a alternativa na qual o substantivo sublinhado é corretamente flexionado

- a) Aquelas moças, ao chegarem para a festa, traziam guardas-chuvas cor de rosa.
- b) Todos os cidadões, ao votarem, devem saber que estão decidindo o rumo do País.
- c) Maria remeteu ao seu chefe todos os abaixo-assinados que recebeu.
- d) As novelas da Globo, é a regra, são verdadeiras obra-primas.
- e) Os alemãos, assim como os brasileiros, são governados por mulheres.

MATEMÁTICA

11. Observe a série seguinte

– 10 – 4 2 8

A soma do sexto termo mais o oitavo termo desta série é igual a

- a) 48
- b) 50
- c) 52
- d) 54
- e) 58

12. Raimundo Maranhãozinho, hoje, tem 30 anos. Em 2032 a sua idade será o dobro da idade de seu filho. A idade atual do filho Maranhãozinho é:

- a) 10.
- b) 8.
- c) 7.
- d) 6.
- e) 5.

13. Você sabe que $X = 3.200.000$ e $y = 0,00000050$, o valor de $X.y$ é igual a

- a) 0,80
- b) 0,90
- c) 1,20
- d) 1,60
- e) 0,16

14. A média aritmética de 4, 12, 20 e $2X$ é igual a 30. A terça parte de X é igual a

- a) 4
- b) 8
- c) 12
- d) 2
- e) 3

15. O número $N = 2^3 \cdot 3^x$ tem um total de 16 (dezesesseis) múltiplos. O valor de x é igual

- a) 2
- b) 3
- c) 4
- d) 5
- e) 6

16. O número N, definido na forma seguinte, é divisível por 11

$$N = 24798658A431$$

Sabendo-se que **A** é um algarismo positivo e é menor que 10, o valor de **A** é igual a

- a) 7
- b) 5
- c) 3
- d) 9
- e) 8

17. Sabe-se que dois números, A e B, estão na seguinte proporção

$$\frac{A}{B} = \frac{5}{7}$$

Sabendo-se que $A + B = 36$, então $2A + B$ é igual a:

- a) 49
- b) 51
- c) 67
- d) 93
- e) NDA

18. Zé Pereira, lá de Satubinha, comprou um terreno retangular, de dimensões 120m por 90m. O terreno tem área, em metros quadrados, igual a:

- a) 8.400
- b) 8.100
- c) 12.400
- d) 10.800
- e) 5.400

19. Astrobaldozinho tem alpiste suficiente para alimentar de seus 8 “chicos pretos” do dia 10 ao dia 21 do mesmo mês. Passados 5 dias, ele ganhou mais 6 canários de seu pai. O alpiste que ainda resta, se usado para alimentar todos os pássaros, será suficiente para alimentar todos os pássaros até o dia

- a) 16
- b) 18
- c) 17
- d) 20
- e) 19

20. Astrobaldozinho contou suas bolinhas de gude e verificou que tem 189 bolinhas. Depois, ele conta as bolinhas de gude de sua irmã Ariene e verifica que ele tem exatamente $\frac{7}{11}$ do número de bolinhas que possui Ariene.

Quantas bolinhas de gude tem Astrobaldozinho e sua irmã, juntos?

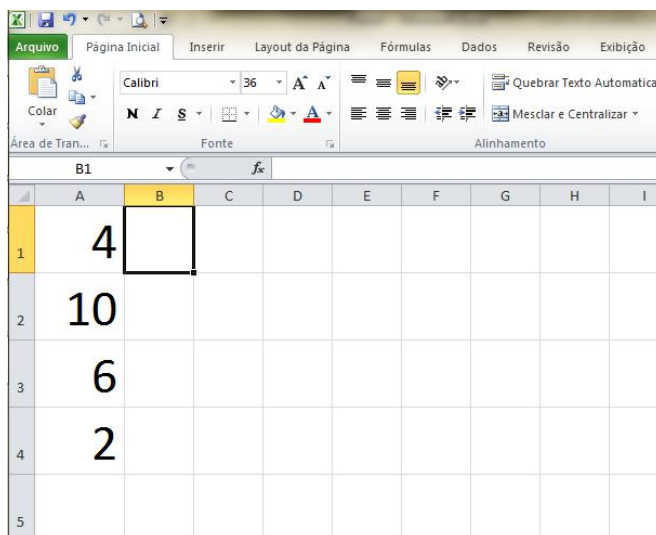
- a) 407
- b) 309
- c) 297

d) 417

e) 486

CONHECIMENTOS ESPECÍFICOS + CONHECIMENTOS LOCAIS

Com base na figura abaixo (MS-EXCEL 2010) responda as questões 21 e 22.



	A	B	C	D	E	F	G	H	I
1	4								
2	10								
3	6								
4	2								
5									

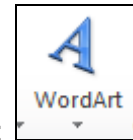
21. Ao aplicar a fórmula **=MÉDIA(A1;A4)**, na célula B1, teremos como resultado:

- a) 1,5
- b) 02
- c) 03
- d) 04
- e) 5,5

22. Qual das fórmulas abaixo foi utilizada para obter o resultado =5?

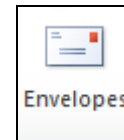
- a) =MED(A1;A4)
- b) =MDC(A1:A4)
- c) =MÉDIA(A1:A4)
- d) =INT(MÉDIA(A1:A4))
- e) =MÉDIA.HARMONICA(A1:A4)

23. Analise as afirmativas abaixo sobre a Faixa de Opções do MS-WORD 2010:



I – A opção - **Word Art** está localizada na guia **Inserir**.

II – A combinação das teclas **Ctrl + Q** tem a função de **Quebra de Página** (iniciar próxima página na posição atual);



III – A opção - **Envelopes** está localizada na guia **Referências**.

Assinale a alternativa correta:

- a) Apenas a afirmativa I está correta;
- b) Apenas a afirmativa II está correta;
- c) Apenas a afirmativa III está correta;
- d) Apenas as afirmativas II e III estão corretas;
- e) Apenas as afirmativas I e III estão corretas.

24. O uso do pronome de tratamento “Vossa Excelência” não está correto quando utilizado para:

- a) Diretores de escolas e hospitais.
- b) Prefeitos Municipais.
- c) Deputados Federais e Senadores.
- d) Presidentes das Câmaras Legislativas Municipais.
- e) Ministros de Estado.

25. É definido como “Documento utilizado para o estabelecimento de condições sobre assuntos de interesses variados, tornando-se público por meio de anúncios na imprensa, no Diário Oficial da União ou com afixação em lugares públicos”.

- a) Portaria
- b) Edital
- c) Convênio
- d) Mensagem
- e) Lei

26. Quando se lida com documentos em arquivo corrente, para promover a conservação preventiva de acervos deve-se atentar para as seguintes recomendações, **EXCETO**.

- a) Nunca tentar remendar documentos usando fitas adesivas.
- b) Não usar cliques, grampos e prendedores de metal.
- c) Permitir exposição do acervo à luz solar.
- d) Mantenha o ambiente sempre limpo e livre de poeira.
- e) Não faça dobras para marcar páginas.

27. Sobre o MEMORANDO, analise as proposições abaixo e marque a **INCORRETA**.

- a) é a modalidade de comunicação entre unidades administrativas de um mesmo órgão.
- b) Trata-se de uma forma de comunicação eminentemente externa.
- c) A tramitação do memorando em qualquer órgão deve pautar-se pela rapidez e pela simplicidade de procedimentos burocráticos.
- d) Os despachos ao memorando devem ser dados no próprio documento e, no caso de falta de espaço, em folha de continuação.
- e) O destinatário do memorando deve ser mencionado pelo cargo que ocupa.

28. Sobre PORTARIA julgue as proposições abaixo.

- I- É o instrumento pelo qual as autoridades expedem instruções sobre a organização e funcionamento de serviço e praticam outros atos de sua competência.
- II- Sendo um documento administrativo de rotina diária, esse ato se oficializa e entra em vigor a partir da data de sua publicação.
- III- É emitido em três vias – 03 (três), sendo a 1ª via para a área de maior interesse; a 2ª via para publicação; a 3ª via para arquivo.

Marque a alternativa **CORRETA**:

- a) Somente a proposição I está correta.
- b) Somente a proposição II está correta.
- c) Somente as proposições I e II estão corretas.
- d) Somente a proposição III está correta.
- e) As proposições I, II e III estão corretas.

29. São Princípios da Administração Pública, previstos no art. 37 da Constituição Federal, **EXCETO**:

- a) Legalidade
- b) Impessoalidade
- c) Praticidade
- d) Moralidade
- e) Publicidade

30. Analisem as proposições abaixo que tratam sobre o ORGANOGRAMA.

- I- Organograma é um gráfico que representa a estrutura formal de uma organização.
- II- Os organogramas mostram como estão dispostas unidades funcionais, a hierarquia e as relações de comunicação existentes entre estes.
- III- Num organograma, os órgãos são dispostos em níveis que representam a hierarquia existente entre eles.
- IV- Em um organograma vertical, quanto mais alto estiver o órgão, maior a autoridade e a abrangência da atividade.

Marque a alternativa **CORRETA**:

- a) Apenas as proposições I e IV estão corretas.
- b) Apenas as proposições II e IV estão corretas.
- c) Apenas as proposições II e III estão corretas.
- d) Apenas as proposições I e II estão corretas.
- e) Todas as proposições estão corretas

31. São atribuições específicas do setor de protocolo.

- a) É o setor encarregado de arquivar os documentos da organização.
- b) É o setor responsável pelo recebimento, registro, movimentação, controle, expedição de documentos.
- c) Setor encarregado da tomada de decisão na organização.
- d) Setor encarregado da organização e utilização dos materiais de consumo e permanente.
- e) Setor encarregado da classificação dos documentos constantes no arquivo permanente.

32. Correspondência é toda espécie de comunicação escrita, que circula nos órgãos ou entidades, à exceção dos processos. Quanto à natureza as correspondências classificam-se em: interna e externa, oficial e particular, recebida e expedida.

Sobre estas correspondências, analise as proposições abaixo e marque a alternativa **ERRADA**.

- a) A correspondência interna é mantida entre as unidades do órgão ou entidade.
- b) A correspondência recebida é aquela de origem apenas externa recebida pelo protocolo central ou setorial do órgão ou entidade.
- c) A expedição é a remessa da correspondência interna ou externa no âmbito da Administração Pública.
- d) A correspondência externa é mantida entre os órgãos ou entidades da Administração Pública.
- e) A correspondência oficial é a espécie formal de comunicação mantida entre os órgãos ou entidades da Administração Pública ou destes para outros órgãos públicos ou empresas privadas.

33. Analise as proposições abaixo e marque a alternativa **ERRADA**:

- a) ATA É um documento de valor jurídico.
- b) Na ATA o texto apresenta-se seguidamente, sem parágrafos, ocupando cada linha inteira, sem espaços em branco ou rasuras, para evitar fraudes.
- c) Quem redige a ATA é o secretário. A ATA vai assinada por todos os presentes, ou somente pelo presidente e pelo secretário, quando houver registro específico de frequência.
- d) Nas ATAS, os números devem ser escritos em algarismos; devem-se colocar abreviações para reduzir o texto. As atas são redigidas sem se deixarem espaços ou parágrafos, a fim de se evitarem acréscimos.

e) Ata é o resumo escrito dos fatos e decisões de uma assembleia, sessão ou reunião para um determinado fim.

34. Se um determinado documento está arquivado por data, diz-se que está arquivado em ordem:

- a) Iconográfica.
- b) Cronológica.
- c) Caleidoscópica.
- d) Nominal.
- e) Alfabética.

35. As siglas PA, PR, MG e MT correspondem, respectivamente, aos seguintes Estados:

- a) Pará, Paraná, Minas Gerais e Mato Grosso.
- b) Paraná, Paraíba, Mato Grosso e Mato Grosso do Sul.
- c) Paraíba, Paraná, Mato Grosso do Sul e Minas Gerais.
- d) Paraná, Pará, Minas Gerais e Mato Grosso.
- e) Paraíba, Pará, Mato Grosso do Sul e Mato Grosso.

36. O Município de Governador Nunes Freire tem, aproximadamente

- a) 20.000 habitantes
- b) 22.000 habitantes
- c) 18.000 habitantes
- d) 25.000 habitantes
- e) 15.000 habitantes

37. O Município de maior área geográfica da Microrregião na qual está situado o Município de Governador Nunes Freire é Centro Novo do Maranhão. Comparando-se a área geográfica de Centro Novo do Maranhão com a área geográfica de Governador Nunes Freire, a área geográfica de Centro Novo do Maranhão equivale, aproximadamente, quantas vezes, a área geográfica de Governador Nunes Freire?

- a) 4
- b) 3
- c) 8
- d) 6
- e) 5

38. Governador Nunes Freire se limita, a oeste, com

- a) Amapá do Maranhão
- b) Maracaçumé
- c) Turilândia
- d) Maranhãozinho
- e) Cândido Mendes

39. O atual Município de Governador Nunes Freire, ex-localidade Encruzo, criado em 1994, foi desmembrado

- a) de Cândido Mendes, apenas
- b) de Cândido Mendes Maracaçumé

c) de Cândido Mendes e Turiaçu

d) de Turiaçu e Maracaçumé

e) de Turilândia e Turiaçu

40. No âmbito da extração vegetal e silvicultura, qual aquela economicamente mais representativa para Governador Nunes Freire?

- a) O açaí (fruto)
- b) O palmito
- c) Madeira – em toras
- d) Madeira – lenha
- e) Madeira – carvão vegetal