



# PREFEITURA MUNICIPAL DE PONTES E LACERDA



PREFEITURA MUNICIPAL DE  
PONTES E LACERDA

## CONCURSO PÚBLICO 01/2011 (117) Agente administrativo

### INSTRUÇÕES – PROVA OBJETIVA

- Este caderno contém 30 questões, com 4 alternativas cada uma.
- Cada questão contém somente UMA ALTERNATIVA CORRETA.
- Com letra legível, preencha o campo abaixo com seu nome.
- Verifique se a prova para a qual você se inscreveu é a mesma deste caderno de questões.
- Caso este caderno esteja incompleto, tenha qualquer defeito ou não seja a prova para o cargo que você se inscreveu, solicite ao Fiscal que providencie a substituição do caderno.
- Assine a FOLHA DEFINITIVA DE RESPOSTAS com caneta de tinta AZUL ou PRETA.
- A duração da prova é de 3 (três) horas.
- O tempo mínimo de permanência na sala é de 1 (uma) hora após o início da prova.
- O caderno de questões não poderá ser levado pelo candidato em nenhum momento.
- Se desejar, use a tabela ao lado como folha intermediária de respostas.

**AGUARDE A ORDEM DO FISCAL PARA ABRIR ESTE CADERNO**

CONCURSO  
PÚBLICO 01/2011  
(117) Agente administrativo

1	<input type="checkbox"/>	16	<input type="checkbox"/>
2	<input type="checkbox"/>	17	<input type="checkbox"/>
3	<input type="checkbox"/>	18	<input type="checkbox"/>
4	<input type="checkbox"/>	19	<input type="checkbox"/>
5	<input type="checkbox"/>	20	<input type="checkbox"/>
6	<input type="checkbox"/>	21	<input type="checkbox"/>
7	<input type="checkbox"/>	22	<input type="checkbox"/>
8	<input type="checkbox"/>	23	<input type="checkbox"/>
9	<input type="checkbox"/>	24	<input type="checkbox"/>
10	<input type="checkbox"/>	25	<input type="checkbox"/>
11	<input type="checkbox"/>	26	<input type="checkbox"/>
12	<input type="checkbox"/>	27	<input type="checkbox"/>
13	<input type="checkbox"/>	28	<input type="checkbox"/>
14	<input type="checkbox"/>	29	<input type="checkbox"/>
15	<input type="checkbox"/>	30	<input type="checkbox"/>

Nome do candidato



**RASCUNHO**

## CONHECIMENTOS GERAIS

**1. O furto a caixas eletrônicos é uma modalidade de crime contra o patrimônio que infelizmente tem apresentado um aumento considerável no país. Assinale a alternativa que contempla uma das medidas preventivas adotadas pelos bancos para tentar evitar esta modalidade de crime.**

- a) instalação de dispositivo antifurto nos caixas automáticos que mancham as notas em caso de furto.
- b) instalação de dispositivo antifurto nos caixas automáticos que incineram as notas em caso de furto.
- c) instalação de agências somente ao lado de delegacias de polícia.
- d) treinamento de cães guarda para o período noturno de saques.

**2. O estado do Mato Grosso por sua localização geográfica faz parte da região:**

- a) Norte do país.
- b) Nordeste do país.
- c) Sudeste do país.
- d) Centro-oeste do país.

**3. Assinale a alternativa que contempla respectivamente os nomes dos atuais prefeito e vice-prefeito do Município de Pontes e Lacerda.**

- a) Newton de Freitas Miotto e João Batista de Carvalho.
- b) Newton de Freitas Miotto e Gilmar Maldonado Roman.
- c) Newton de Freitas Miotto e Nilson Gutierrez Debroi.
- d) Newton de Freitas Miotto e Hilário Garbim.

**4. O plenário do Supremo Tribunal Federal (STF) determinou, na noite da quarta-feira (08/06), por 6 votos a 3, a libertação do ex-ativista Cesare Battisti, cuja extradição é requisitada por seu país de origem. Assinale a alternativa que contempla o país de origem deste ativista.**

- a) Uruguai
- b) Itália
- c) França
- d) Argentina

**5. A criação do estado do Mato Grosso do Sul, que dividiu o território do estado do Mato Grosso, estabeleceu como capital do estado recém criado a cidade de:**

- a) Pontes e Lacerda.
- b) Vila Bela da Santíssima Trindade.
- c) Cuiabá.
- d) Campo Grande.

## PORTUGUÊS

Leia a tirinha abaixo para responder às questões de 6 a 9.

MUNDO MONSTRO ADÃO



Folha de S. Paulo. Ilustrada, 12/10/2010, p. E11.

**6. É correto afirmar que o conteúdo da tirinha expressa:**

- a) mau agouro do personagem.
- b) ato de suicídio do personagem.
- c) revolta do personagem diante da vida.
- d) desilusão amorosa do personagem.

**7. Na tirinha, os verbos “oferecer” e “espremer”:**

- a) encontram-se ambos em formas nominais (infinitivo e participio).
- b) realizam-se nos modos subjuntivo e imperativo afirmativo, respectivamente.
- c) estão empregados fora dos padrões do português escrito culto.
- d) realizam-se nos modo indicativo e imperativo neutro, respectivamente.

**8. No texto da tirinha, o pronome pessoal “lhe” refere-se a:**

- a) 1ª pessoa do plural, embora seja forma de 2ª pessoa do singular.
- b) 2ª pessoa do singular, embora seja forma de 3ª pessoa do plural.
- c) 3ª pessoa do singular.
- d) 2ª pessoa do singular, embora seja forma de 3ª pessoa do singular.

**9. O sinal de reticências é empregado na tirinha para marcar:**

- a) uso de expressões orais.
- b) suspensão de pensamento no final do terceiro quadrinho.
- c) pausa, no segundo quadrinho, e continuação, no terceiro.
- d) hesitação, no segundo quadrinho, e surpresa, no terceiro.

Leia o texto abaixo para responder às questões de 10 a 15.


### NOBEL DA PAZ

Liu Xiaobo foi premiado pela defesa dos direitos humanos, incluindo a Carta 08, que o levou à prisão

#### O que é a Carta 08

> Manifesto de 19 pontos assinado por intelectuais e artistas chineses  
> Defende direitos humanos e reformas democráticas na China

> Foi inspirada na Carta 77, de dissidentes da Tchecoslováquia  
> Publicada em 10 de dezembro de 2008, no 60º ano da Declaração Universal dos Direitos Humanos  
> Com 300 assinaturas iniciais, chegou a 20 mil signatários



#### Prisão e Nobel

**2008** Liu foi detido dois dias antes da divulgação da Carta, por incitar a subversão ao poder do Estado

**2009** Foi condenado a 11 anos de prisão. A Carta foi prova

**2010** Recebeu o Nobel da Paz

#### Veja outros dissidentes premiados com o Nobel da Paz

**1960** Albert John Lutuli (África do Sul, 1898-1967)  
Liderou uma campanha não violenta por direitos civis

**1989** Tenzin Gyamtsho (Tibete, 1935)  
O dalai-lama defende a liberdade do povo tibetano

**1991** Aung San Suu Kyi (Mianmar, 1945)  
Foi premiada por sua luta não violenta pela democracia

**2003** Shirin Ebadi (Irã, 1947)  
Defende democracia e direitos humanos no Irã

Folha de S. Paulo. Mundo, 09/10/2010, p. A22.

#### 10. A principal finalidade do texto é:

- a) informar sobre o ganhador do prêmio Nobel da Paz de 2010.
- b) denunciar a prisão de um escritor premiado com o Nobel da Paz.
- c) divulgar ganhadores dissidentes do prêmio Nobel da Paz.
- d) denunciar o ganhador do prêmio Nobel da Paz ao poder público chinês.

#### 11. De acordo com as informações do texto, a Carta 08:

- a) homenageou os 60 anos da Declaração dos Direitos Humanos.
- b) defende direitos humanos, inspirada em outro movimento dissidente.
- c) é uma reprodução da Carta 77, de dissidentes da Tchecoslováquia.
- d) propõe reformas antidemocráticas na China.

#### 12. O trecho “Liu Xiaobo foi premiado pela defesa dos direitos humanos, incluindo a Carta 08, que o levou à prisão” informa que:

- a) a Defesa dos Direitos Humanos é a entidade que premiou Liu Xiaobo.
- b) a Defesa dos Direitos Humanos é entidade protetora também da Carta 08.
- c) Liu Xiaobo realizou outras ações humanitárias, além da Carta 08.
- d) a Carta 08 foi consequência da prisão de Liu Xiaobo.

#### 13. Os outros dissidentes já premiados, de acordo com o texto:

- a) também são homens.
- b) também defenderam ideais libertários.
- c) pertencem todos a grupos religiosos extremistas.
- d) também receberam apoio de intelectuais e artistas.

#### 14. A justificativa dada para a prisão de Liu Xiaobo foi:

- a) a autoria da Carta 08.
- b) um dos 19 pontos da Carta 08.
- c) incitar o poder do Estado.
- d) o encorajamento a atitudes subversivas contra o Estado.

#### 15. De acordo com o texto, a Carta 08:

- a) alcançou 20 mil signatários.
- b) contou com bem mais de 20 mil signatários.
- c) recebeu mais de 300 assinaturas inicialmente.
- d) chegou a ter 20 mil assinaturas inicialmente.

## MATEMÁTICA

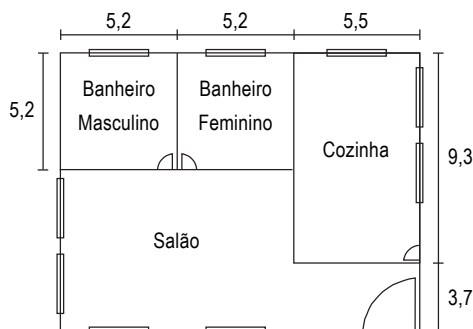
16. Em um concurso público, para um cargo com 8 vagas, a concorrência é de 97,5 candidatos por vaga. Qual o número de inscritos para esse cargo?

- a) 693.
- b) 776.
- c) 780.
- d) 815.

17. Pedro comprou uma geladeira de R\$ 1357,00, pagou R\$ 400,00 no momento da compra e dividiu o restante em cinco vezes. Sabendo que não foi cobrado juro no parcelamento, quanto será o valor de cada parcela?

- a) R\$ 135,70.
- b) R\$ 271,40.
- c) R\$ 226,16.
- d) R\$ 191,40.


18. A figura abaixo representa a planta de um salão de festas com medidas em metros.



Com base nas informações da figura, qual a área destinada à cozinha?

- a) 51,15 m
- b) 51,15 m<sup>2</sup>
- c) 14,8 m
- d) 14,8 m<sup>2</sup>

19. O mosaico abaixo é formado por figuras geométricas. Dentre as figuras usadas no mosaico, pode-se observar:



- a) triângulos, quadrados e hexágonos.
- b) losangos, quadrados, pentágonos e triângulos.
- c) pentágonos, retângulos e circunferências.
- d) triângulos, quadrados, hexágonos e trapézios.

20. Um trem parte do ponto A com 167 passageiros, no ponto B descem 89 e sobem 130, no ponto C descem 158 e sobem 56. Com quantos passageiros o trem irá partir do ponto C?

- a) 106
- b) 132
- c) 162
- d) 228

## CONHECIMENTOS ESPECÍFICOS

Leia o *caput* artigo 37 da Constituição Federal para responder as questões de 1 a 3 completando as lacunas.

“Art. 37. A administração pública .....(I)..... e .....(II)..... de qualquer dos Poderes da União, dos Estados, do Distrito Federal e dos Municípios obedecerá aos .....(III)..... de legalidade, impessoalidade, moralidade, .....(IV)..... e .....(V)..... e, também, ao seguinte: (Redação dada pela Emenda Constitucional nº 19, de 1998)” (...)

21. As expressões que completam corretamente as lacunas I e II são, respectivamente:

- a) estadual e federal.
- b) autárquica e fundacional.
- c) direta e indireta.
- d) executiva e legislativa.

22. A expressão que completa corretamente a lacuna III é:

- a) mandamentos.
- b) ordenamentos.
- c) critérios.
- d) princípios.

23. As expressões que completam corretamente as lacunas IV e V são, respectivamente:

- a) publicidade e eficiência.
- b) honestidade e eficácia.
- c) lealdade e vinculação.
- d) publicidade e eficácia.

24. A respeito do software MS-Word 2003, analise as proposições.

- I. A barra de ferramentas pode ser personalizada.
- II. Os arquivos criados e editados possuem a extensão padrão “xls”.
- III. Permite a criação e edição apenas do Cabeçalho da página.
- IV. Permite o uso de arquivos externos como base de destinatários na criação de Mala Direta.

Estão corretas:

- a) I e II.
- b) II e III.
- c) apenas a I.
- d) I e IV.

**25. Acerca do Software MS-Excel 2003, analise as proposições.**

- I. Possui verificador ortográfico.
- II. Permite inserir fórmulas e funções somente pela barra de fórmula.
- III. Possui um assistente para criação de gráficos.
- IV. Não permite a inserção de novas planilhas na mesma pasta de trabalho.

**Estão corretas:**

- a) I e III.
- b) II e III.
- c) apenas a III.
- d) III e IV.

**26. A respeito de correio eletrônico, podemos afirmar que:**

- a) uma mensagem eletrônica pode ser enviada para apenas um destinatário por vez.
- b) ao receber um e-mail desconhecido, com um arquivo executável em anexo, devemos renomeá-lo, antes de abrir.
- c) o serviço on-line de gerenciamento de e-mail é chamado de "webmail".
- d) o campo reservado para cópias ocultas (Cco) é utilizado quando a mensagem possui anexo.

**27. A respeito do Sistema Operacional Windows XP, é correto afirmar que:**

- a) o software "Bloco de Notas" é parte integrante do pacote "Office Professional".
- b) para entrar em "Modo de Segurança", deve-se pressionar a tecla F8 ao ligar o computador, antes do Windows ser carregado.
- c) a ferramenta "Limpeza de disco", localizada no menu "Ferramentas" inicia um processo de limpeza de arquivos não utilizados localizado na área de trabalho.
- d) para instalação de novos programas, o Windows XP precisa estar conectado à internet.

**28. A respeito do software PowerPoint 2003, assinale a alternativa correta.**

- a) Os slides podem conter *hyperlinks* para páginas da web, externas à apresentação.
- b) A tecla F5 ativa o modo de classificação de slides.
- c) A função "Marcadores e Numeração" é parte integrante do menu "Janela".
- d) Arquivos do Word, ou tabelas do Excel não podem ser importadas para um slide.

**29. A internet, além de possuir uma grande quantidade de informações para pesquisa, serve também como um meio de comunicação entre as pessoas. A respeito dos meios de comunicação por meio da internet, é correto afirmar que:**

- a) a única forma de comunicação entre as pessoas é o e-mail, que é uma mensagem enviada ao destinatário somente após este autorizar o envio pelo remetente.
- b) a comunicação através de *Chat* só é possível para pessoas que possuem e-mail.
- c) o uso de redes sociais para comunicação deve-se à limitação do e-mail, que permite o uso de apenas 140 caracteres.
- d) as mensagens enviadas por e-mail podem conter, além da própria mensagem, arquivos diversos, como planilhas e fotos.

**30. Sobre o Sistema Operacional Windows XP, analise as proposições.**

- I. É possível criar contas de usuários convidados por meio de um acesso remoto pelo Administrador.
- II. Não é possível agendar tarefas semanais para execução de arquivos executáveis.
- III. A desfragmentação de disco ocorre apenas em modo de espera.
- IV. O Logoff é feito quando o usuário realiza a instalação de novos softwares.

**Estão corretas:**

- a) I e III.
- b) apenas a I.
- c) III e IV.
- d) apenas a II.

**RASCUNHO**

**RASCUNHO**