

Unimontes
EVOLUINDO O CURSO DA VIDA

**CONCURSO PÚBLICO PARA PROVIMENTO DE CARGOS
EFETIVOS DO QUADRO DE PESSOAL DA SECRETARIA DE
SAÚDE DO MUNICÍPIO DE MONTES CLAROS/MG -
EDITAL 1/2010**

ESTE CADERNO DE PROVAS DESTINA-SE AOS CANDIDATOS AO SEGUINTE CARGO:

Agente Sanitário

PROVAS DE LÍNGUA PORTUGUESA, MATEMÁTICA E CONHECIMENTOS DE
ADMINISTRAÇÃO PÚBLICA

DATA 20/6/2010	HORÁRIO 8h30min	CADERNO 001
-------------------	--------------------	-----------------------

Ficha de Identificação


NOME:		
FUNÇÃO:		Nº INSCRIÇÃO:
Nº DO PRÉDIO:	SALA:	ASSINATURA



COMISSÃO TÉCNICA DE CONCURSOS

www.okconcursos.com.br

ORIENTAÇÕES IMPORTANTES

- 01 - Este caderno contém questões do tipo múltipla escolha.
- 02 - Verifique se o caderno contém falhas: folhas em branco, má impressão, páginas trocadas, numeração errada, etc. Encontrando falhas, levante a mão. O Fiscal o atenderá e trocará o seu caderno.
- 03 - Cada questão tem 4 (quatro) alternativas (A - B - C - D). Apenas 1 (uma) resposta é correta. Não marque mais de uma resposta para a mesma questão, nem deixe nenhuma delas sem resposta. Se isso acontecer, a questão será anulada.
- 04 - Para marcar as respostas, use preferencialmente caneta esferográfica com tinta azul ou preta. **NÃO** utilize caneta com tinta vermelha. Assinale a resposta certa, preenchendo toda a área da bolinha .
- 05 - Tenha cuidado na marcação da Folha de Respostas, pois ela não será substituída em hipótese alguma.
- 06 - Confira e assine a Folha de Respostas, antes de entregá-la ao Fiscal. **NA FALTA DA ASSINATURA, A SUA PROVA SERÁ ANULADA.**
- 07 - Não se esqueça de assinar a Lista de Presenças.
- 08 - Após UMA HORA, a partir do início das provas, você poderá retirar-se da sala, SEM levar este caderno.
- 09 - Após DUAS HORAS E TRINTA MINUTOS, a partir do início das provas, você poderá retirar-se da sala, levando este caderno.

DURAÇÃO DESTAS PROVAS: TRÊS HORAS

OBS.: Candidatos com cabelos longos deverão deixar as orelhas totalmente descobertas durante a realização das provas. É proibido o uso de boné.

PROVA DE LÍNGUA PORTUGUESA
Questões numeradas de 01 a 15

INSTRUÇÃO: Para responder as questões de 01 a 14, leia o texto que se segue.

ELES FAZEM DIFERENÇA

Com criatividade, disposição para o trabalho e experiência no atendimento às doenças típicas das regiões pobres, os brasileiros ganham destaque na organização Médicos Sem Fronteiras e viram referência nas missões espalhadas pelo mundo



Com 20 milhões de habitantes, Moçambique, na costa oriental da África Subsaariana, é um dos mais preocupantes focos do vírus HIV em todo o mundo. Nos grandes centros, como a capital, Maputo, ou a cidade de Tete, a aids se faz presente em toda parte.

Nas ruas, é raro cruzar com pessoas mais velhas. A expectativa de vida no país é de 47 anos para os homens e de 49 para as mulheres. Ao lado de outras doenças epidêmicas, os outdoors não deixam esquecer: "O que tiveste na tua última relação sexual: amor, sexo ou HIV?". Cartazes sobre cuidados com as crianças não reforçam apenas a importância da vacinação contra as afecções típicas da infância. Num deles, na legenda da fotografia de uma garotinha acompanhada pelos pais, lê-se: "Eu já vou fazer o teste do HIV". Um em cada sete adultos moçambicanos está contaminado — o equivalente a 15% dessa população. Em algumas regiões, como a de Maputo, o índice é de um em quatro habitantes. Para se ter uma ideia do tamanho da tragédia, no Brasil, a taxa de contaminação pelo HIV é de menos de 1%. Até pouco tempo atrás, muitos moçambicanos

nunca haviam ouvido falar em aids. Para eles, seus parentes e amigos morriam vítimas de alguma feitiçaria. Ainda hoje é comum que os doentes recorram aos curandeiros na esperança de cura.

Em um país dilacerado pela miséria e por quase trinta anos de guerra encerrada apenas em 1992, a precariedade do acesso aos cuidados básicos de saúde e a falta de informação sobre prevenção e tratamento compõem o cenário ideal para a disseminação do HIV. Metade dos quase 100000 mortos pela doença todos os anos tem entre 30 e 44 anos — está na plenitude produtiva. O país padece da falta de profissionais qualificados. O número de médicos em Moçambique não ultrapassa os 500. O de curandeiros, entretanto, supera os 70000. Por isso, a ajuda estrangeira é crucial na luta contra a aids — tanto do ponto de vista financeiro quanto da mão de obra especializada.

A primeira e maior organização humanitária a desenvolver projetos de combate ao HIV em Moçambique foi a Médicos Sem Fronteiras (MSF), em 2001. Prêmio Nobel da Paz de 1999, a MSF foi fundada em 1971, por médicos e jornalistas franceses, e hoje conta com 27000 profissionais, entre médicos, enfermeiros, psicólogos, arquitetos, administradores, economistas e engenheiros. Ela atua em 65 países conflagrados* ou em situação de emergência sanitária. Atualmente, a equipe da MSF em Moçambique é composta de 31 profissionais — sete dos quais brasileiros. Esses médicos e enfermeiras têm um perfil ideal para o trabalho desenvolvido pela instituição, porque ainda lidam por aqui com doenças típicas de países pobres, como tuberculose, malária e leishmaniose visceral. "No Brasil, muitos médicos não apenas estudaram tais moléstias como tiveram a experiência de tratá-las", diz Simone Rocha, diretora executiva da MSF-Brasil. Soma-se a isso o traquejo dos brasileiros para atender as populações mais carentes, de baixo nível educacional. "Eles sabem como transmitir uma mensagem de jeito simples para que o paciente consiga seguir o tratamento", diz o coordenador de um dos projetos da MSF em Moçambique, o enfermeiro inglês

Christopher Peskett. Moçambique não é apenas o país com o maior número de brasileiros atuando na MSF, mas é também onde o Brasil faz escola.

45 Um dos projetos mais bem-sucedidos é o da médica paulista Raquel Yokoda, de 29 anos. O programa desenvolvido pela jovem vem ajudando a mudar um dos cenários mais cruéis da aids em Moçambique — o das crianças portadoras do HIV. Atualmente, 147000 meninos e meninas de até 14 anos estão contaminados. As crianças entre zero e 4 anos mortas pela aids chegam a inacreditáveis 19% de todos os óbitos registrados pela doença. Com uma ideia extremamente simples, em seis meses Raquel conseguiu
50 reduzir a taxa de mortalidade infantil em 80% no Hospital Dia de Moatize, nos arredores da cidade de Tete, no centro do país. Ela transformou a sala de espera num lugar acolhedor para as crianças — uma espécie de brinquedoteca, decorada com motivos infantis. Com isso, ir ao médico passou a ser uma diversão para meninos e meninas que vivem em estado de miséria. Ajudada por moradores locais, Raquel adaptou histórias e jogos infantis à cultura moçambicana para explicar às crianças que elas são portadoras de uma
55 doença que requer cuidados para toda a vida. Como o idioma oficial, o português, é falado por apenas 40% da população, as cartilhas de Raquel tiveram de ser traduzidas para o dialeto nhungue, característico da região.

60 Numa das histórias para as crianças de 5 anos, a aids é simbolizada pela mudança da cor do pelo dos leões. Doente, uma leoa vai atrás dos conselhos de um velho hipopótamo. O tratamento prescrito: a água de um mar vermelho, as folhas verdes das árvores e os raios de sol, todos os dias, para sempre. Ela morre, mas
65 recomenda a seu filhote, o simpático leãozinho Bekhi, que siga à risca as orientações do sábio hipopótamo. Ele obedece e consegue crescer forte e feliz. "Os pais têm muita dificuldade para contar a seus filhos que eles são portadores do HIV, e que terão de seguir um tratamento até o fim da vida", diz Alain Kassa, coordenador-geral da
70 missão da MSF em Moçambique. "O projeto de Raquel mudou esse processo, aumentando a participação das crianças no tratamento." As cartilhas da jovem médica servem hoje de referência em todos os países de atuação da MSF. "Nós só conseguimos fazer um bom trabalho
75 quando entendemos e usamos a cultura local para nos aproximar dos pacientes", explica Raquel.

Resposta imediata

"Resolvi entrar para os Médicos Sem Fronteiras porque me realizo no atendimento em situações de emergência. A resposta dos pacientes, nessas ocasiões, é muito rápida. Para um enfermeiro, que é quem cuida dos doentes mais de perto, isso é muito gratificante. Em minha primeira missão na organização, ajudei a conter um surto de cólera no Zimbábue. Agora, em Moçambique, me dedico às gestantes soropositivas, na tentativa de evitar que elas contaminem seus bebês. É um trabalho difícil, disponho de poucos recursos. Para calcular a idade gestacional do feto, por exemplo, tenho de medir a barriga da paciente com uma fita métrica. Num cenário como esse, cada pequena conquista é motivo de orgulho."

JANAÍNA CARMELLO, enfermeira obstetra

* países conflagrados: em conflito armado

Veja – 3/3/2010, p. 110-113

QUESTÃO 01

Concorrem para que Moçambique seja “um dos mais preocupantes focos do vírus HIV em todo o mundo” os seguintes fatores, **EXCETO**

- A) A miséria generalizada e a crença em feitiçaria e curandeirismo.
- B) O fato de ser a aids a única doença epidêmica nesse país.
- C) A precariedade do acesso aos cuidados básicos de saúde.
- D) A falta de informação sobre prevenção e tratamento da doença.

QUESTÃO 02

Todas as afirmações abaixo estão de acordo com o texto, **EXCETO**

- A) Para cada 7 adultos moçambicanos, 1 está contaminado pelo HIV.
- B) A expectativa de vida entre os moçambicanos é de menos de 50 anos para homens e mulheres.
- C) Nas grandes cidades de Moçambique, os casos de aids são menos frequentes do que nas áreas rurais.
- D) Em Moçambique, o número de curandeiros é muitas vezes maior do que o de médicos.

QUESTÃO 03

Sobre os Médicos sem Fronteiras (MSF), é **INCORRETO** afirmar, segundo o texto, que

- A) reúne apenas profissionais ligados à saúde, como médicos e enfermeiros.
 - B) é a primeira e maior organização humanitária a desenvolver projetos de combate ao HIV em Moçambique.
 - C) atua em vários países em conflito ou em situação de emergência sanitária.
 - D) foi fundada por médicos e jornalistas franceses e conquistou o Prêmio Nobel da Paz de 1999.
-

QUESTÃO 04

Todos os fatores abaixo justificam a afirmação de que os profissionais brasileiros que integram a equipe da MSF em Moçambique “têm um perfil ideal para o trabalho desenvolvido pela instituição”, **EXCETO**

- A) a experiência no tratamento de doenças típicas de países pobres.
 - B) a facilidade para comunicar-se com populações de baixo nível profissional.
 - C) o número de portadores do HIV no Brasil ser bastante significativo.
 - D) o conhecimento a respeito de moléstias como tuberculose, malária e leishmaniose visceral.
-

QUESTÃO 05

O resultado positivo do projeto da médica paulista Raquel Yokoda, em Moçambique, é testemunhado principalmente no fato de, com esse trabalho, ter

- A) podido explicar às crianças que elas são portadoras de uma doença incurável.
 - B) transformado a sala de espera do Hospital Dias de Moatize num lugar acolhedor.
 - C) conseguido que ir ao médico passasse a ser uma diversão para as crianças que vivem na miséria.
 - D) reduzido a taxa de mortalidade entre as crianças portadoras de HIV.
-

QUESTÃO 06

NÃO constitui uma característica do projeto da médica paulista Raquel Yokoda:

- A) ser simples e eficaz.
 - B) ser referência em todos os países de atuação do MSF.
 - C) usar a cultura local para se aproximar dos pacientes.
 - D) ser voltado para qualquer doença epidêmica.
-

QUESTÃO 07

Segundo seu próprio depoimento, foram motivações para a enfermeira obstetra Janaína Carmello entrar para os MSF, **EXCETO**

- A) realizar-se quando trabalha em situações de emergência.
 - B) dispor de poucos recursos na realização do seu trabalho.
 - C) sentir-se gratificada com a resposta imediata por parte dos pacientes.
 - D) poder colher resultados positivos em situações bastante adversas.
-

QUESTÃO 08

Em “Um dos projetos mais bem-sucedidos é o da médica paulista Raquel...” (linha 45), o verbo “ser” concorda com “Um”.

Indicou-se corretamente, em todas as alternativas abaixo, o termo (ou núcleo do termo) com o qual o verbo (ou locução verbal) está concordando, **EXCETO** em

- A) Mesmo na ~~capital~~ de Moçambique, o número de médicos ~~é reduzido~~.
▲
 - B) Os responsáveis por tudo ~~éramos sempre nós~~, os enfermeiros.
▲
 - C) ~~Que diziam os médicos devia ser seguido~~ à risca.
▲
 - D) Médico enfermeiro, paciente, ~~ninguém aguentava~~ mais o barulho.
▲
-

QUESTÃO 09

Em qual dos exemplos abaixo, “como” tem o mesmo valor sintático-semântico que tem em “Como o idioma oficial, o português, é falado por apenas 40% da população, as cartilhas de Raquel tiveram de ser traduzidas...” (linhas 55-56)

- A) Como se sabe, o fato de uma pessoa tomar conhecimento de que tem uma doença incurável, leva-a a compreender a importância de cuidar da própria saúde e a passar essa experiência aos outros.
 - B) Como os centros de saúde e os hospitais ficam longe, alguns pacientes chegam a caminhar 15 quilômetros até o hospital mais próximo.
 - C) Como pode se sentir alguém ao descobrir que tem uma doença incurável?
 - D) Como enfermeira obstetra, a brasileira Janaína usava uma fita métrica para medir a barriga da paciente.
-

INSTRUÇÃO: As questões de 10 a 12 referem-se ao seguinte período:

““Nós só conseguimos fazer um bom trabalho quando entendemos e usamos a cultura local para nos aproximar dos pacientes”, explica Raquel.” (linhas 75-77)

QUESTÃO 10

Sobre a construção sintática do período acima, estão corretas todas as afirmativas abaixo, **EXCETO**

- A) A oração “para nos aproximar dos pacientes” exprime finalidade em relação às duas anteriores a ela.
 - B) “um bom trabalho” é complemento do verbo “fazer”.
 - C) Possui apenas orações subordinadas.
 - D) “dos pacientes” é complemento do verbo “aproximar-se”.
-

QUESTÃO 11

Em “um bom trabalho”, temos, respectivamente,

- A) artigo, adjetivo, substantivo.
 - B) numeral, adjetivo, substantivo.
 - C) pronome indefinido, adjetivo, substantivo.
 - D) artigo, adjetivo, verbo.
-

QUESTÃO 12

Marque a alternativa que apresenta uma análise gramatical **INCORRETA**.

- A) “Nós” e “só” são acentuados graficamente por serem monossílabos tônicos terminado em “o”, seguidos ou não de “s”.
 - B) Os verbos “entendemos” e “usamos” encontram-se no modo subjuntivo.
 - C) O pronome “nos” classifica-se como oblíquo átono.
 - D) O verbo “aproximar-se” pertence à 1ª conjugação e foi empregado, aqui, pronominalmente.
-

QUESTÃO 13

Qual das palavras abaixo apresenta mais de uma sílaba?

- A) Até (linha 70).
 - B) País (linha 67).
 - C) Seus (linha 68).
 - D) Aos (linha 25).
-

QUESTÃO 14

O plural de “leãozinho” (linha 65) é

- A) leõezinhos.
 - B) leãozinhos.
 - C) leõesinhos.
 - D) leãosinhos.
-

QUESTÃO 15

Em qual das séries de palavras abaixo **todas** estão grafadas corretamente?

- A) Necessidade, compreensão, excursão.
 - B) Viajem (substantivo), jeito, majestoso.
 - C) Excesso, convalescença, exceção.
 - D) Atrasar, paralisar, analisar.
-

PROVA DE MATEMÁTICA
Questões numeradas de 16 a 25

QUESTÃO 16

Se 30% do meu salário é R\$180,00, qual o seu valor?

- A) R\$520,00.
 - B) R\$540,00.
 - C) R\$600,00.
 - D) R\$780,00.
-

QUESTÃO 17

Um restaurante fez a seguinte promoção: a cada 10 refeições, a 11.^a será grátis. O desconto a ser dado pelo restaurante ao cliente que fizer 11 refeições é de

- A) 9,09%.
 - B) 10%.
 - C) 10,91%.
 - D) 11%.
-

QUESTÃO 18

O produto dos sucessores de dois números naturais consecutivos é igual a 600. A diferença entre o quadrado do maior e o quádruplo do menor desses dois números é

- A) 405.
 - B) 461.
 - C) 515.
 - D) 561.
-

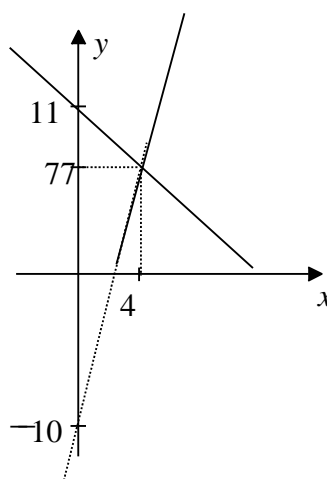
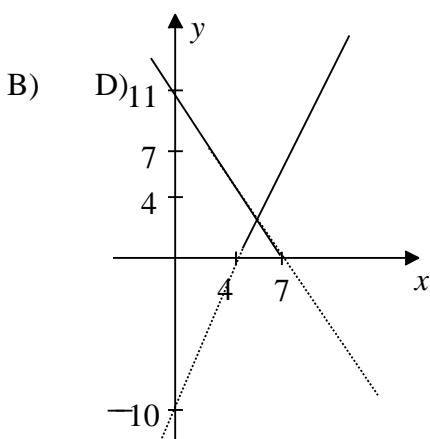
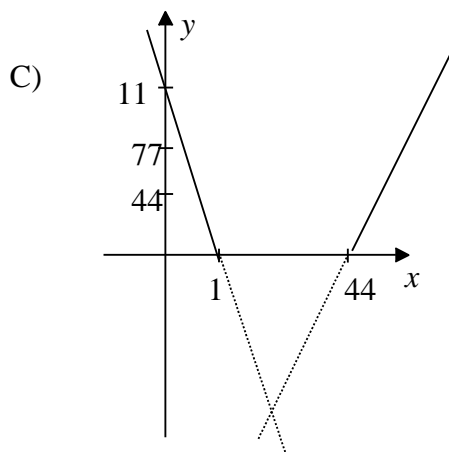
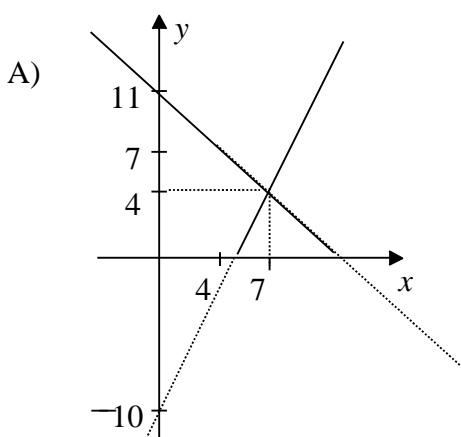
QUESTÃO 19

O valor de k para que $44x^2 - 77x + k$ seja um trinômio quadrado perfeito é

- A) $\frac{77}{44}$
 - B) $\frac{77}{22}$
 - C) $\frac{49}{44}$
 - D) $\frac{49}{16}$
-

QUESTÃO 20

O esboço de gráfico que representa o comprimento e a largura de um retângulo de perímetro 22 cm e que a diferença entre a metade do seu comprimento e a quarta parte de sua largura é $2,5 \text{ cm}$



QUESTÃO 21

Para a planta de uma casa, um arquiteto desenhou um segmento \overline{AB} de 7 cm e um segmento consecutivo \overline{BC} de 8 cm . A seguir, verificou que a distância entre A e C era de 9 cm . Podemos afirmar que o ângulo \widehat{ABC}

- A) obtuso.
- B) reto.
- C) agudo.
- D) raso.

QUESTÃO 22

Em um prédio, a rampa de acesso para portadores de necessidades especiais tem uma inclinação de 10° em relação à horizontal. Na sua parte mais alta, a rampa atinge $3,4 \text{ m}$. Considerando $\sin 10^\circ = 0,17$, $\cos 10^\circ = 0,98$ e $\text{tg} 10^\circ = 0,18$, o comprimento da rampa é

- A) 9 m .
- B) 10 m .
- C) 18 m .
- D) 20 m .

QUESTÃO 23

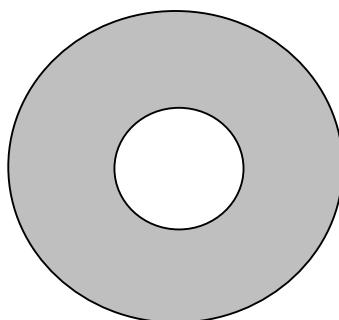
A soma das medidas de todas as arestas de uma caixa d'água cúbica é igual a 30 mm . A capacidade dessa caixa d'água é

- A) 15,625 litros.
- B) 156,25 litros.
- C) 1562,5 litros.
- D) 15624 litros.

QUESTÃO 24

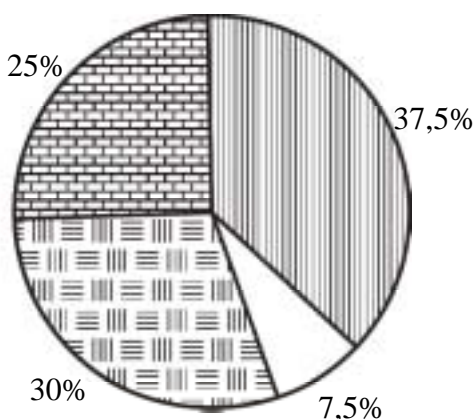

Um círculo de raio x é concêntrico a outro círculo de raio 3. A região compreendida entre os dois círculos é colorida, conforme a figura abaixo. A área da região colorida é dada por

- A) $A(x) = 9 - x^2$
- B) $A(x) = \pi(x^2 - 9)$
- C) $A(x) = \pi(9 - x^2)$
- D) $A(x) = x^2 - 9$



QUESTÃO 25

Em 2009, o professor de Educação Física do ensino médio do Colégio Delta fez uma pesquisa entre seus alunos sobre o esporte preferido e registrou o resultado no seguinte gráfico de setores, em porcentagem:



No gráfico, o ângulo de setores referente aos que preferem handebol mede

- A) $2,7^\circ$.
- B) 27° .
- C) 75° .
- D) 259° .

PROVA DE ADMINISTRAÇÃO PÚBLICA
Questões numeradas de 26 a 30

QUESTÃO 26

Com base na Lei 3.175/2003, que dispõe sobre o Estatuto do Servidor Público do Município de Montes Claros, analise as afirmativas abaixo, marcando **V** para as verdadeiras e **F** para as falsas.

- () Servidor Público é somente a pessoa investida em cargo público, em caráter efetivo.
- () Os cargos em comissão são de livre nomeação e exoneração.
- () Os cargos em comissão de recrutamento amplo são providos por qualquer pessoa que preencha os requisitos estabelecidos em lei.
- () As funções gratificadas podem ser de recrutamento amplo ou limitado.

A sequência **CORRETA** é

- A) F, V, F, F.
 - B) F, V, V, F.
 - C) V, F, F, V.
 - D) V, V, F, F.
-

QUESTÃO 27

De acordo com o que determina a Lei 3.175/2003, que dispõe sobre o Estatuto do Servidor Público do Município de Montes Claros, em relação à avaliação de desempenho, analise as afirmativas abaixo, marcando **V** para as verdadeiras e **F** para as falsas.

- () Uma vez demonstrada aptidão funcional, o servidor, 6 (seis) meses antes do término do estágio, será submetido à avaliação final e, aprovado, terá homologado o estágio probatório.
- () Doze meses antes de findo o estágio probatório, a avaliação de desempenho do servidor será submetida à homologação da autoridade competente.
- () A avaliação de desempenho será promovida por uma Comissão Especial composta pelo chefe imediato do servidor, pelo Prefeito, por representante do sindicato e por um representante da sociedade.
- () O servidor não aprovado no estágio probatório será exonerado ou, se estável, reconduzido ao cargo anteriormente ocupado, assegurando ao servidor o contraditório e ampla defesa.

A sequência **CORRETA** é

- A) F, V, V, F.
 - B) V, F, V, V.
 - C) F, V, F, V.
 - D) V, V, F, F.
-

QUESTÃO 28

Com relação às determinações contidas na Lei 3.175/2003, que dispõe sobre o Estatuto do Servidor Público do Município de Montes Claros, relativo à apuração do tempo de serviço, marque a alternativa **CORRETA**.

- A) Não é permitida a soma de tempo de serviço simultaneamente prestado em dois ou mais cargos.
 - B) O tempo trabalhado em serviço público gratuito somente não será computado para fins de promoção.
 - C) A contagem do tempo de serviço será feita em dias, que serão convertidos em anos, considerando o ano como 365 (trezentos e sessenta e cinco) dias, para o ano comum, e 366 (trezentos e sessenta e seis) dias, para o ano bissexto.
 - D) O tempo de serviço militar obrigatório será computado como de efetivo exercício para fins de aposentadoria, não acontecendo o mesmo com o período de serviço militar voluntário.
-

QUESTÃO 29

Com base na Lei 3.175/2003, que dispõe sobre o Estatuto do Servidor Público do Município de Montes Claros, são considerados como de efetivo serviço os afastamentos do servidor pelos seguintes motivos,

EXCETO

- A) O não comparecimento ao serviço no dia do aniversário.
 - B) A ausência no serviço para participação em júri, enquanto durar a atividade desempenhada.
 - C) A ausência por 5 (cinco) dias consecutivos ao serviço, em razão do falecimento de enteados.
 - D) A ausência ao serviço por 5 (cinco) dias consecutivos, em razão do falecimento do sogro, sogra, irmãos, avós e netos.
-

QUESTÃO 30

Nos termos da Lei 3.175/2003, que dispõe sobre o Estatuto do Servidor Público do Município de Montes Claros, marque a alternativa que **NÃO** corresponde a uma forma de vacância no cargo público.

- A) Disponibilidade.
- B) Falecimento.
- C) Posse em outro cargo inacumulável.
- D) Promoção.