



TRIBUNAL REGIONAL DO TRABALHO DA 24ª REGIÃO

Concurso Público para provimento de cargos de

Auxiliar Judiciário

Área Serviços Gerais

Caderno de Prova, Cargo V20 , Tipo 001

000000000000000000

00001-001-001

Nº de Inscrição
MODELO

P R O V A

Conhecimentos Gerais
Conhecimentos Específicos

INSTRUÇÕES

- Verifique se este caderno:
 - corresponde a sua opção de cargo.
 - contém 60 questões, numeradas de 1 a 60.Caso contrário, reclame ao fiscal da sala um outro caderno.
Não serão aceitas reclamações posteriores.
- Para cada questão existe apenas UMA resposta certa.
- Você deve ler cuidadosamente cada uma das questões e escolher a resposta certa.
- Essa resposta deve ser marcada na FOLHA DE RESPOSTAS que você recebeu.

VOCÊ DEVE:

- procurar, na FOLHA DE RESPOSTAS, o número da questão que você está respondendo.
- verificar no caderno de prova qual a letra (A,B,C,D,E) da resposta que você escolheu.
- marcar essa letra na FOLHA DE RESPOSTAS, conforme o exemplo: (A) ● (C) (D) (E)

ATENÇÃO

- Marque as respostas primeiro a lápis e depois cubra com caneta esferográfica de tinta preta.
- Marque apenas uma letra para cada questão, mais de uma letra assinalada implicará anulação dessa questão.
- Responda a todas as questões.
- Não será permitida qualquer espécie de consulta, nem o uso de máquina calculadora.
- Você terá 3 horas para responder a todas as questões e preencher a Folha de Respostas.
- Devolva este caderno de prova ao aplicador, juntamente com sua Folha de Respostas.
- Proibida a divulgação ou impressão parcial ou total da presente prova. Direitos Reservados.

FUNDAÇÃO CARLOS CHAGAS
Março/2006

CONHECIMENTOS GERAIS

Amazônia (1989)

Roberto Carlos – Erasmo Carlos

Tanto amor perdido no mundo *Avalanches de desatinos*
Verdadeira selva de enganos *Numa ambição desmedida*
A visão cruel e deserta *Absurdos contra os destinos*
De um futuro de poucos anos *De tantas fontes de vida*

Sangue verde derramado *Quanta falta de juízo*
O solo manchado; *Tolices fatais;*
Feridas na selva *Quem desmata, mata*
A lei do machado *Não sabe o que faz [...]*

Desde os anos 70, muito antes de o tema “ecologia” entrar na moda por aqui, Roberto Carlos já abordava o assunto, em canções como **O Progresso**. Na década de 80 foi a vez de **As Baleias e Amazônia**, ambas em torno da preservação ambiental. Nesta canção, ele chama a atenção para a destruição da maior reserva natural da Terra, que cobre grande parte do território brasileiro.

(Adaptado de Roberto Carlos Braga II, **Na poltrona**, Revista de bordo do Grupo Itapemirim, ano 6, nº 67, janeiro 2005, p. 60)

1. Roberto Carlos já abordava o assunto ... (2ª linha)

A frase em que o verbo exige o mesmo tipo de complemento que o do verbo grifado acima é:

- (A) A defesa da floresta é o objetivo de várias entidades, tanto do governo quanto da sociedade.
- (B) Grupos de ambientalistas, preocupados com a devastação da floresta, investiram na educação dos moradores.
- (C) As notícias sobre derrubada da floresta chegam diariamente à imprensa falada e escrita.
- (D) Apesar do controle governamental, a Amazônia perde enormes áreas de vegetação a cada ano.
- (E) O combate à destruição de árvores depende da mobilização de toda a sociedade.

- 2. Há palavras escritas de maneira INCORRETA na frase:
 - (A) Os recursos naturais devem ser protegidos, em defesa da vida na Terra.
 - (B) A manutenção de florestas favorece a qualidade de vida em todo o planeta.
 - (C) Pesquisas científicas comprovam que certas plantas são remédios eficazes.
 - (D) Povos indígenas valorizam as propriedades medicinais das plantas.
 - (E) Cientistas se preocupam com a extinção de plantas de valor medicinal.

- 3. A norma gramatical que justifica o acento gráfico na palavra **década** é:
 - (A) Monossílabos tônicos devem ser sempre acentuados.
 - (B) Palavras oxítonas terminadas em **a** recebem acento agudo.
 - (C) Palavras paroxítonas terminadas em ditongo crescente recebem acento gráfico.
 - (D) O acento agudo é utilizado para assinalar a existência de um hiato numa palavra paroxítona terminada em **a**.
 - (E) São acentuadas todas as palavras proparoxítonas.

- 4. Com o sistema de monitoramento por satélite, dados e imagens de desmatamento da Amazônia são transmitidos em tempo real para o Ibama, que consegue fiscalizar o desmatamento logo em seu início, tendo sido possível reduzir o ritmo do desmatamento da Amazônia.

Os trechos grifados serão corretamente substituídos por formas pronominais correspondentes, na ordem, em:

- (A) fiscalizar-lhe - o ritmo dela.
- (B) lhe fiscalizar - seu ritmo.
- (C) fiscalizá-lo - seu ritmo.
- (D) o fiscalizar - o ritmo desse.
- (E) fiscalizá-lo - o ritmo dela.

Atenção: Para responder às questões de números 5 a 9, assinale, na folha de respostas, a letra da alternativa que preenche corretamente as lacunas da frase apresentada.

- 5. O município de Bonito é exemplo de preservação de suas belezas naturais, com de visão magnífica, verdadeiros
 - (A) quedas d’água - cartões-postal
 - (B) quedas d’água - cartões-postais
 - (C) queda d’águas - cartões-postais
 - (D) quedas d’água - cartão-postais
 - (E) queda d’águas - cartão-postais

6. Fiscais motoristas de caminhão que transportando madeira, por não os documentos necessários.

- (A) detiveram - estavam - apresentarem
- (B) detiveram - estão - apresentar
- (C) detiveram - estão - apresentarem
- (D) deteram - estavam - apresentar
- (E) deteram - estão - apresentarem

7. Ainda bastante os índices de devastação da floresta amazônica, apesar das medidas de proteção pelas autoridades responsáveis.

- (A) são - elevado - tomado
- (B) são - elevados - tomado
- (C) são - elevados - tomadas
- (D) é - elevado - tomadas
- (E) é - elevados - tomados

8. , pelo Governo Federal, unidades de conservação ambiental que o desmatamento, protegendo, assim, a fauna e a flora.

- (A) Foi criado - controlam
- (B) Foi criadas - controlam
- (C) Foram criados - controla
- (D) Foram criadas - controla
- (E) Foram criadas - controlam

9. **Amazônia** é uma canção em que seu autor, atento devastação da floresta, transmite seu público a idéia de respeito natureza.

- (A) a - à - a
- (B) a - a - à
- (C) à - a - a
- (D) à - a - à
- (E) à - à - à

Atenção: As questões de números 10 e 11 referem-se aos quadrinhos apresentados abaixo, com a transcrição correta das falas das personagens.



Transcrevendo em norma culta:

- Oba, oba! Plantando uma árvore, Chico?!
- Essa aí é de quê? De goiaba? De jaca? De manga?
- Não! De esperança ...

10. A única afirmativa INCORRETA a respeito dos sinais de pontuação utilizados nas falas acima é:

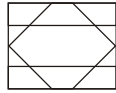
- (A) Os travessões substituem os balões dos quadrinhos, indicando a fala das personagens.
- (B) O ponto de exclamação em *Oba, oba!* reforça o sentido de alegria e surpresa do amigo.
- (C) A combinação de ponto de interrogação e de exclamação na 1ª fala do amigo indica curiosidade e espanto, ao mesmo tempo.
- (D) Os pontos de interrogação entre *goiaba* e *jaca* e entre *jaca* e *manga* podem ser substituídos por vírgulas, sem alteração do sentido.
- (E) As reticências, no final, indicam que ainda serão plantadas árvores das frutas indicadas pelo amigo.

11. A frase inteiramente correta é:

- (A) Chico respondeu para o amigo que desejava que fosse preservado todas as árvores.
- (B) A preservação da natureza é importante para a vida do planeta e no planeta.
- (C) O amigo do Chico se assustou da resposta inesperada à qual recebeu.
- (D) Chico parece ser idealista, preocupado na preservação da natureza.
- (E) A devastação das florestas provocam o aquecimento global, segundo se diz os especialistas.

<p>12. A frase corretamente pontuada é:</p> <p>(A) Não se pode ignorar a evolução tecnológica, porém é importante perceber que a qualidade de vida do ser humano depende da existência de condições ambientais favoráveis.</p> <p>(B) Não se pode ignorar, a evolução tecnológica porém é importante, perceber que a qualidade de vida do ser humano depende da existência de condições ambientais favoráveis.</p> <p>(C) Não se pode, ignorar a evolução tecnológica porém, é importante perceber que a qualidade de vida do ser humano depende da existência de condições ambientais favoráveis.</p> <p>(D) Não se pode ignorar a evolução tecnológica porém é importante perceber, que a qualidade de vida do ser humano depende da existência, de condições ambientais favoráveis.</p> <p>(E) Não se pode ignorar a evolução tecnológica porém é importante perceber que, a qualidade de vida do ser humano depende, da existência de condições ambientais, favoráveis.</p>	<p>15. (A) O plantio de eucaliptos, feito atualmente em respeito ao meio ambiente, fornece a celulose, matéria-prima para as indústrias de papel e de tecidos.</p> <p>(B) A plantação de eucaliptos, feito atualmente em respeito ao meio ambiente, fornecem a celulose, matérias-primas para a indústria de papel e de tecidos.</p> <p>(C) Como se faz o plantio de eucaliptos, atualmente, no meio ambiente respeitado, ele fornece a celulose, matéria-prima para as indústrias de papel e de tecidos.</p> <p>(D) Feito atualmente em respeito ao meio ambiente, quem fornece a celulose, como matéria-prima para as indústrias de papel e de tecidos, está no plantio de eucaliptos.</p> <p>(E) Os eucaliptos, plantação que é feito atualmente em respeito ao meio ambiente, fornece a celulose, matéria-prima para as indústrias de papel e de tecidos.</p>
<p>Atenção: Para responder às questões de números 13 a 15, assinale, na folha de respostas, a letra da alternativa que corresponde à frase inteiramente clara e correta.</p> <p>13. (A) Como se queima combustíveis fósseis com números cada vez maior de veículos automotivos, isso tornou-se um importante fator de poluição ambiental em especial em grandes cidades.</p> <p>(B) Os números cada vez maior de veículos automotivos que queimam os combustíveis fósseis, fato que se tornou importante fator de poluição ambiental, especialmente nas grandes cidades.</p> <p>(C) A queima de combustíveis fósseis por um número cada vez maior de veículos automotivos tornou-se um importante fator de poluição ambiental, especialmente nas grandes cidades.</p> <p>(D) O número cada vez maior de veículos automotivos com a queima de combustíveis fósseis, é um importante fator nas grandes cidades, em especial, que as poluem.</p> <p>(E) É especialmente nas grandes cidades que a queima de combustíveis fósseis nos veículos automotivos, com número cada vez maior, tornaram-se importantes como poluição do ambiente, dessas grandes cidades.</p>	<p>16. A sentença seguinte é seguida de um número entre parênteses, que corresponde ao número de letras de uma palavra que se aplica à definição dada.</p> <p>“Tudo aquilo que não é cópia ou imitação.” (8)</p> <p>A alternativa onde se encontra a letra inicial de tal palavra é</p> <p>(A) A</p> <p>(B) O</p> <p>(C) P</p> <p>(D) Q</p> <p>(E) R</p>
<p>14. (A) A origem do desmatamento indiscriminado e ilegal da Amazônia abastecendo a indústria e o comércio de móveis, com boa parte da madeira.</p> <p>(B) A parte da madeira que abastece a indústria e o comércio de móveis originam no desmatamento indiscriminado e ilegal da Amazônia.</p> <p>(C) Com parte da madeira que abastece a indústria e o comércio de móveis que se originam no desmatamento indiscriminado e ilegal da Amazônia.</p> <p>(D) Boa parte da madeira que abastece a indústria e o comércio de móveis tem origem no desmatamento indiscriminado e ilegal da Amazônia.</p> <p>(E) Em boa parte da madeira que abastecendo a indústria e o comércio de móveis, com sua origem no desmatamento indiscriminado e ilegal da Amazônia.</p>	<p>17. Note que, dos pares de números seguintes, quatro têm uma característica comum.</p> <p>(1;5) – (3;7) – (4;8) – (7;10) – (8;12)</p> <p>O único par que não tem tal característica é</p> <p>(A) (1;5)</p> <p>(B) (3;7)</p> <p>(C) (4;8)</p> <p>(D) (8;12)</p> <p>(E) (7;10)</p>

18. Observe a figura abaixo.



Qual dos desenhos seguintes pode ser encontrado no interior da figura dada?

- (A)
- (B)
- (C)
- (D)
- (E)

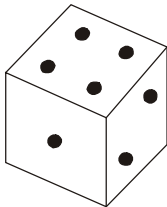
19. Considerando que a ordem alfabética adotada é a oficial e exclui as letras K, W e Y, observe a relação existente entre o primeiro e o segundo grupos de letras mostrados no esquema seguinte:

$$LMNL : PQRP :: GHIG : ?$$

Se a mesma relação deve existir entre o terceiro grupo e o quarto, que está faltando, o grupo de letras que substituiria corretamente o ponto de interrogação é

- (A) HIGH
- (B) JLMJ
- (C) LMNL
- (D) NOPN
- (E) QRSQ

20. Considere o dado mostrado na figura abaixo:



Sabendo que os pontos marcados em faces opostas somam 7 unidades, o total de pontos assinalados nas faces não-visíveis desse dado é igual a

- (A) 15
- (B) 14
- (C) 13
- (D) 12
- (E) 11

21. Josué foi incumbido de tirar cópias de um conjunto de informações sobre legislação trabalhista, que deverão ser entregues a 11 pessoas. Se 8 dessas pessoas deverão receber apenas um conjunto e as restantes solicitaram dois conjuntos a mais do que elas, a quantidade exata de conjuntos que Josué deverá tirar cópias é um número compreendido entre

- (A) 30 e 35
- (B) 25 e 30
- (C) 20 e 25
- (D) 15 e 20
- (E) 10 e 15

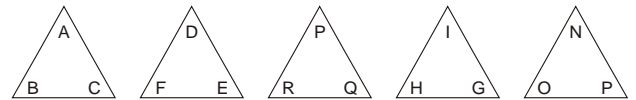
22. No quadro seguinte, as letras A e B substituem as operações que devem ser efetuadas em cada linha a fim de obter-se o correspondente resultado que se encontra na coluna da extrema direita.

2	A	4	B	1	=	5
4	A	5	B	6	=	3
7	A	8	B	9	=	?

Para que o resultado da terceira linha seja correto, o ponto de interrogação deverá ser substituído pelo número

- (A) 4
- (B) 5
- (C) 6
- (D) 7
- (E) 8

23. Observe que, quatro das figuras seguintes têm uma característica comum.



A única figura que NÃO tem a característica das demais é

- (A)
- (B)
- (C)
- (D)
- (E)

24. No caixa de uma lanchonete há apenas moedas de 10, 25 e 50 centavos, sendo 15 unidades de cada tipo. Usando essas moedas, de quantos modos distintos uma pessoa pode receber de troco a quantia de R\$ 1,00?
- (A) 9
(B) 8
(C) 7
(D) 6
(E) 5

25. Do conhecido “jogo-da-velha” participam duas pessoas que devem, alternadamente, assinalar suas respectivas marcas nas casas de um esquema formado por linhas paralelas, duas horizontais e duas verticais. O vencedor será aquele que primeiro conseguir assinalar sua marca em três casas de uma mesma linha, coluna ou diagonal do esquema.

Considere que, após três jogadas sucessivas, tem-se o seguinte esquema:

x		o
x		

Dos esquemas seguintes, o único que NÃO apresenta jogadas equivalentes à do esquema acima é

(A)

		x
	o	x

(B)

		o
x		x

(C)

x		
x	o	

(D)

	o	x
		x

(E)

x		
	o	x

Atenção: Para responder às questões de números 26 a 30 considere a Lei nº 8.112, de 11/12/1990.

26. Cargo público é
- (A) o conjunto de atribuições e responsabilidades previstas na estrutura organizacional que devem ser cometidas a um servidor.
(B) o local físico em que o funcionário público nele investido exerce as suas funções.
(C) a repartição pública na qual está lotado o servidor investido no exercício de suas funções.
(D) o emprego acessível a todos os brasileiros, criado por ato administrativo de chefe de autarquia e fundações públicas.
(E) a função desempenhada por um servidor, em caráter efetivo, com vencimentos pagos pelos cofres públicos.

27. Os cargos públicos são
- (A) remunerados por empresa privada.
(B) criados por ato administrativo.
(C) acessíveis a todos os brasileiros.
(D) providos apenas em caráter efetivo.
(E) providos apenas em comissão.

28. A nomeação far-se-á em caráter efetivo
- (A) quando se tratar de cargo de confiança na condição de interino.
(B) apenas quando se tratar de cargo de carreira.
(C) apenas quando se tratar de cargo de confiança.
(D) quando se tratar de cargo de carreira ou de confiança.
(E) quando se tratar de cargo isolado de provimento efetivo ou de carreira.

29. Considere os seguintes atos:
- I. Nomeação
II. Exoneração.
III. Recondução.
IV. Aposentadoria.
V. Posse em outro cargo inacumulável.
VI. Demissão.

São formas de provimento de cargo público as indicadas APENAS em

- (A) I, II e IV.
(B) I, III.
(C) II e V.
(D) III, IV e VI.
(E) IV, I e VI.

30. Inclui-se, dentre os deveres do servidor público,
- (A) manter sob sua chefia imediata, em cargo ou função de confiança, parente até o segundo grau civil.
(B) promover manifestação de apreço no recinto da repartição.
(C) cometer a outro servidor atribuições estranhas ao cargo que ocupa, exceto em situações de emergência e transitórias.
(D) representar contra ilegalidade, omissão ou abuso de poder.
(E) cometer a pessoa estranha à repartição, fora dos casos previstos em lei, o desempenho de atribuição que seja de sua responsabilidade.

CONHECIMENTOS ESPECÍFICOS

31. No Tribunal, a entrega e o recebimento de documentos devem ser realizados por protocolo. Essa medida é
- (A) burocrática e torna o trabalho moroso e ineficaz.
 - (B) demorada para os funcionários que querem agilizar os trâmites.
 - (C) importante para se manter o controle sobre a circulação dos documentos.
 - (D) complicada porque demonstra falta de confiança nos colegas.
 - (E) realizada somente pelos novatos que ainda não conhecem o trabalho.

32. É solicitado ao Auxiliar Judiciário de Serviços Gerais que organize alguns documentos que já foram despachados. Para executar essa tarefa ele deve
- (A) conhecer as atividades e os fluxos de trabalho do Tribunal.
 - (B) desenvolver um sistema de arquivamento que lhe facilite o trabalho.
 - (C) ler os despachos para inteirar-se do conteúdo do documento.
 - (D) discutir o teor dos documentos com o grupo de Analistas Judiciários.
 - (E) priorizar o arquivamento de despachos deferidos pelos especialistas.

33. O Auxiliar Judiciário de Serviços Gerais foi designado para mudar de lugar alguns arquivos. Durante a realização da tarefa de remoção de alguns documentos uma gaveta de um dos arquivos feriu a perna do Auxiliar de Serviços Gerais. Levado ao Pronto Socorro, o corte foi suturado e ele ficou em observação por algumas horas porque perdeu muito sangue. Nessa situação, o Auxiliar Judiciário de Serviços Gerais
- (A) irá para casa, mas será descontado pelas horas não trabalhadas.
 - (B) solicitará remuneração especial por periculosidade.
 - (C) será afastado sem remuneração até que obtenha alta médica.
 - (D) será licenciado com um adicional de 25%, sobre o seu vencimento.
 - (E) será licenciado com remuneração integral.

34. Devido ao acúmulo de trabalho no Tribunal, o Auxiliar Judiciário de Serviços Gerais foi convocado para prestação de serviço extraordinário. Esse tipo de serviço
- (A) é remunerado com acréscimo de 100% em relação à hora normal de trabalho.
 - (B) deve ser realizado, impreterivelmente, até às 22 horas.
 - (C) necessita da autorização dos Ministérios da Justiça e do Trabalho.
 - (D) está limitado a 2 horas extras por jornada.
 - (E) depende da vontade e da disponibilidade do funcionário.

35. É uma situação que se configura como acidente de trabalho:
- (A) Ao final do expediente, o Auxiliar Judiciário de Serviços Gerais envolveu-se em briga em frente ao Tribunal.
 - (B) No trajeto da sua residência para o trabalho no Tribunal, o Auxiliar Judiciário de Serviços Gerais foi atropelado.
 - (C) Durante o expediente, o Auxiliar Judiciário de Serviços Gerais provocou um colega e foi agredido por este.
 - (D) Após o almoço, o Auxiliar Judiciário de Serviços Gerais volta para o trabalho e teve problemas intestinais.
 - (E) Tendo ido trabalhar resfriado, o Auxiliar Judiciário de Serviços Gerais apresenta quadro febril de 39 °C ao final do expediente.

36. O Auxiliar Judiciário de Serviços Gerais foi recém-admitido no Tribunal e recebeu ordem para receber algumas cadeiras novas que chegaram e tombá-las, mas ele não sabe o que é “tombamento de material”. Diante dessa situação ele deve
- (A) procurar, escondido dos colegas, informações sobre o assunto.
 - (B) começar o serviço a seu modo para não demonstrar ignorância.
 - (C) procurar seu superior imediato e solicitar informações sobre o procedimento.
 - (D) se recusar a cumprir a tarefa, alegando desconhecimento.
 - (E) passar a tarefa para colegas mais experientes do que ele.

37. Considere a figura.



(Torquato, Gaudêncio. **Cultura, poder, comunicação e imagem.** São Paulo: Pioneira, 1991, p. 48)

- O ambiente apresentado na figura lembra que o Auxiliar Judiciário de Serviços Gerais
- (A) deve manter organizado seu ambiente de trabalho.
 - (B) deve empilhar todos os papéis encontrados nas mesas de trabalho.
 - (C) mantém sob sua guarda importantes documentos do Tribunal.
 - (D) deve mostrar que é eficiente para os seus superiores.
 - (E) trabalha sob constante clima de pressão.

<p>38. Considere as seguintes afirmações:</p> <p>I. O arquivamento de documentos deve atender às necessidades e normas do Tribunal.</p> <p>II. O Auxiliar Judiciário de Serviços Gerais deve criar uma sistemática pessoal de arquivamento de materiais e documentos.</p> <p>III. Para trabalhar com arquivamento de papéis e documentos é necessário que o Auxiliar Judiciário de Serviços Gerais seja treinado.</p> <p>Está correto o que se afirma APENAS em</p> <p>(A) I.</p> <p>(B) II.</p> <p>(C) I e II.</p> <p>(D) I e III.</p> <p>(E) II e III.</p>	<p>41. Considere as seguintes afirmações sobre as condições encontradas no ambiente de trabalho:</p> <p>I. Mofo em paredes e armários e fungos que se desenvolvem no interior de salas e do edifício podem ser responsáveis por inúmeras alergias.</p> <p>II. O acúmulo de poeira em tapetes, carpetes, pisos, móveis e armários podem provocar ou desencadear problemas respiratórios em algumas pessoas.</p> <p>III. O acúmulo de livros, impressos e papéis em geral em estantes e arquivos pode ser foco de poeira e traças.</p> <p>Está correto o que se afirma em</p> <p>(A) I, apenas.</p> <p>(B) II, apenas.</p> <p>(C) I e II, apenas.</p> <p>(D) II e III, apenas.</p> <p>(E) I, II e III.</p>
<p>39. Sr. Plutão, Auxiliar Judiciário de Serviços Gerais, não passa um dia sem discutir com algum colega. Cobra serviço dos outros, lança comentários e críticas a todos e ofende-se quando alguém reclama de seu comportamento. Esse funcionário</p> <p>(A) é um líder nato.</p> <p>(B) exerce com presteza suas atribuições.</p> <p>(C) não descansa enquanto não cumpre todas as suas tarefas.</p> <p>(D) é autêntico e quer ser promovido rapidamente.</p> <p>(E) não se preocupa em tratar os colegas com urbanidade.</p>	<p>42. Ato de registrar um item de material ou equipamento no sistema de controle patrimonial, à vista de documentação apropriada atribuindo-lhe um número seqüencial de incorporação ao patrimônio. Essa é a definição de</p> <p>(A) descrição imobiliária.</p> <p>(B) responsabilidade patrimonial.</p> <p>(C) tombamento.</p> <p>(D) controle autárquico.</p> <p>(E) alistamento patrimonial.</p>
<p>40. O Auxiliar Judiciário de Serviços Gerais recebeu a incumbência de guardar os seguintes materiais:</p> <p>I. Um jogo de café com 12 xícaras.</p> <p>II. Uma máquina de calcular.</p> <p>III. 10 pacotes de papel sulfite.</p> <p>IV. 1 caixa de detergente líquido.</p> <p>V. 2 galões de toner.</p> <p>VI. Uma coleção de legislação, contendo CLT, Constituição Federal e Código Civil.</p> <p>Desse conjunto de materiais, são considerados <i>equipamento e material permanente</i>, respectivamente, APENAS</p> <p>(A) I e II.</p> <p>(B) I e V.</p> <p>(C) II e VI.</p> <p>(D) III e IV.</p> <p>(E) III e V.</p>	<p>43. O Auxiliar Judiciário de Serviços Gerais recebeu a tarefa de levar um sofá antigo e muito pesado para o depósito no subsolo do Tribunal. Para executá-la solicita o auxílio de um colega. Para evitar problemas na coluna vertebral, a forma correta de transportar o sofá será:</p> <p>(A) pernas ligeiramente abertas, abaixar-se dobrando a coluna, levantar o sofá e transportá-lo.</p> <p>(B) dobrar a coluna em um ângulo de 90° para pegar as bordas do sofá, levantá-lo e transportá-lo.</p> <p>(C) curvar a coluna mantendo as pernas retas, levantar o sofá e transportá-lo.</p> <p>(D) com a coluna reta, agachar-se com os joelhos dobrados, levantar o sofá, ficar de pé e transportá-lo.</p> <p>(E) dobrar os braços, as pernas e a coluna, levantar o sofá e transportá-lo.</p> <p>44. Atualmente, as grandes organizações, nas quais se incluem os Tribunais, têm uma seção ou setor de reprografia cuja finalidade é</p> <p>(A) manter atualizados os cadastros dos funcionários.</p> <p>(B) reproduzir cópias de documentos em máquinas xerográficas.</p> <p>(C) atualizar os atos emitidos pelos Analistas Judiciários.</p> <p>(D) proceder perícias médicas dos funcionários do Tribunal.</p> <p>(E) prestar assistência financeira aos funcionários e dependentes.</p>

45. Considere a figura.

Um dia destes, numa reunião de um juiz com analistas judiciários...



(Torquato, Gaudêncio. **Cultura, poder, comunicação e imagem.** São Paulo: Pioneira, 1991, p. 101)

A atitude do Auxiliar Judiciário de Serviços Gerais é

- (A) errada, pois os assuntos profissionais discutidos no Tribunal devem ser mantidos em sigilo.
- (B) correta, pois conhecendo o assunto discutido poderá contar as novidades para os colegas.
- (C) discreta, pois o funcionário só está ouvindo sem que seja visto pelos presentes na reunião.
- (D) interessada, pois se os participantes da reunião necessitarem de algo ele se apresentará para atendê-los.
- (E) inteligente, pois conhecendo o conteúdo das discussões mostrará aos superiores como é bem informado.

46. Um dia desses chegaram algumas mesas e cadeiras que foram remanejadas de uma outra unidade administrativa do 24^o Tribunal. Uma das primeiras providências do Auxiliar Judiciário de Serviços Gerais será

- (A) oferecer esses materiais aos Juízes e Analistas Judiciários mais simpáticos.
- (B) lavar e desinfetar os materiais pois não conhece as condições de conservação desses bens.
- (C) proceder ao tombamento dos materiais para incluí-los no patrimônio do Tribunal.
- (D) permanecer calado, pois caso contrário terá que transportar o material para as salas.
- (E) escolher uma mesa e uma cadeira em bom estado e reservá-las para seu uso.

47. O Auxiliar Judiciário de Serviços Gerais não está feliz. Nunca foi sua vontade exercer essa função, pois quer outros cargos e funções no Tribunal. Por isso não se empenha no que faz, realiza suas tarefas superficialmente e sempre procura fugir do trabalho mais pesado, alegando problemas de saúde. A atitude desse funcionário é

- (A) compreensível, pois desejar melhores funções é sempre positivo.
- (B) normal, pois acredita que tudo na vida é transitório.
- (C) eficiente, pois poderá despertar o interesse de seus superiores para uma promoção.
- (D) leal, pois não gosta do que faz e demonstra publicamente seu desinteresse.
- (E) errada, pois um de seus deveres é exercer com dedicação as atribuições de seu cargo.

48. Considere as seguintes situações observadas durante um dia de trabalho de um Auxiliar Judiciário de Serviços Gerais.

- I. Ele estende o horário do almoço para resolver no Banco um problema do seu superior.
- II. Ele atende à copa e prepara o café a ser servido nos Gabinetes dos Juizes.
- III. Ele providencia cópias de documentos para os Analistas Judiciários.
- IV. Ele se dirige à garagem do Tribunal para testar uma viatura oficial.

São tarefas próprias do Auxiliar Judiciário de Serviços Gerais SOMENTE

- (A) I e II.
- (B) I e III.
- (C) I e IV.
- (D) II e III.
- (E) III e IV.

49. Uma das atribuições do Auxiliar Judiciário de Serviços Gerais é providenciar fotocópias de leis e quaisquer outros documentos legais necessários ao andamento do trabalho do Tribunal e, para isso, deve conhecer o significado de alguns termos legais. Anexar um despacho ao processo significa

- (A) retirar do arquivo as informações do autor do processo.
- (B) juntar ao processo uma decisão ou parecer proferido por uma autoridade administrativa.
- (C) aguardar um parecer ministerial para encerrar o processo.
- (D) pedir ao superior que esclareça o conteúdo do processo.
- (E) encaminhar o processo para o arquivo.

50. Um Auxiliar Judiciário de Serviços Gerais recebeu a incumbência de arquivar alguns processos e deparou-se com os seguintes nomes:

- Antonio da Silva Júnior.
- Antonio Amaral de Souza Filho.
- Antonio Mendes Salgado Neto.

Sabendo que o arquivamento é feito por sobrenome, a ordem correta será

- (A) cada processo em uma letra: F – Filho, N – Neto e J – Júnior.
- (B) Amaral de Souza na letra A, Salgado Neto e Silva Júnior na letra S.
- (C) Salgado, Souza e Silva Júnior, nesta seqüência, na letra S.
- (D) Amaral de Souza na letra A, Mendes Salgado na letra M e Silva Júnior na letra S.
- (E) Salgado, Silva e Souza, nesta seqüência, na letra S.

51. Ao ser designado para o serviço de copa o Auxiliar Judiciário de Serviços Gerais deve ter claro que
- (A) para diminuir seu trabalho deve solicitar a compra de copos de água e de café descartáveis.
 - (B) na bandeja em que será transportado o café devem ser colocados, também, o açucareiro, o adoçante, as xícaras e colheres ou pzinhas descartáveis.
 - (C) há necessidade de guardar todas as garrafas de água mineral na geladeira.
 - (D) ao oferecer água a algum visitante, o copo deve ser preenchido até a borda.
 - (E) ao servir café, o primeiro a receber atendimento é o chefe imediato e depois os outros superiores.

52. Uma das atribuições do Auxiliar Judiciário de Serviços Gerais é executar tarefas externas. Sobre o assunto, o Regimento Jurídico dos Servidores Públicos afirma:
- I. Quando o deslocamento do servidor para fora de sua sede de lotação, a serviço de caráter eventual, exigir pernoite, ele fará jus à diária para indenizar as despesas com pousada, alimentação e locomoção urbana.
 - II. No caso do servidor deslocar-se para serviços externos utilizando-se de veículo próprio a diária é calculada em dobro.
 - III. O servidor que se deslocar dentro da região onde está situada sua sede de trabalho terá sempre direito à gratificação extra.

Está correto SOMENTE o que se afirma em

- (A) I.
- (B) II.
- (C) I e II.
- (D) I e III.
- (E) II e III.

53. Dentre os atos oficiais que o Auxiliar Judiciário de Serviços Gerais recebe para atender às solicitações de Juizes ou Analistas, um deles tem a seguinte definição:

Trata-se de conjunto de normas baixadas por autoridades superiores, decorrentes de uma determinação legal, que regem o funcionamento de determinado órgão, ou o exercício de atividades profissionais.

Esta é a definição de

- (A) Declaração.
- (B) Ata.
- (C) Estatuto.
- (D) Edital.
- (E) Parecer.

54. O Auxiliar Judiciário de Serviços Gerais é convocado para auxiliar no inventário que é realizado anualmente no Tribunal. Nesse inventário, dentre outros,
- (A) verifica-se o estado de conservação das instalações elétricas e hidráulicas do Tribunal.
 - (B) são relacionados todos os bens e materiais de consumo em estoque no Tribunal.
 - (C) são convidados a comparecer ao Tribunal todos os ex-funcionários.
 - (D) é feito o levantamento das faltas e licenças-saúde dos servidores do Tribunal.
 - (E) é feito o levantamento dos processos em andamento no Tribunal.

55. Para entregar documentos em âmbito externo, o Auxiliar Judiciário de Serviços Gerais deve, dentre outros procedimentos,
- (A) traçar um roteiro que lhe permita cumprir toda a tarefa no horário do expediente.
 - (B) avisar aos interessados que entregará os documentos em um único local a ser combinado.
 - (C) solicitar um período de folga para cada dia que transporta documentos para locais de difícil acesso.
 - (D) ler os conteúdos para escolher quais devem ser entregues com maior rapidez.
 - (E) priorizar os que devem ser entregues nas proximidades da sede, deixando os mais distantes para o dia seguinte.

56. Considere a situação representada na figura.



(Torquato, Gaudêncio. **Cultura, poder, comunicação e imagem**. São Paulo: Pioneira, 1991, p. 109 – adaptada)

- Considere as possíveis respostas dadas pelo servidor.
- I. Bem.. Eu...prometo ficar quieto, mas isso vale um cafezinho...
 - II. Bem...Eu... serei obrigado a falar para o chefe sobre sua conduta...
 - III. Bem... Eu... sei e você também sabe que é proibido utilizar materiais do Tribunal em atividades particulares.
 - IV. Bem... Eu... quero saber o que você vai fazer com todo esse material...

Considerando o Regime Jurídico Único dos servidores, estão corretas SOMENTE as respostas

- (A) I e II.
- (B) I e III.
- (C) I e IV.
- (D) II e III.
- (E) III e IV.

57. Na guarda de materiais de consumo devem ser tomadas algumas providências, dentre as quais,
- (A) usar semanalmente inseticida nos armários onde são guardados o café e o açúcar.
 - (B) armazenar alimentos em estantes ou armários sem porta.
 - (C) não fazer controle de estoque, pois são produtos consumidos rapidamente.
 - (D) fechar com cadeado as portas dos armários para evitar consumo excessivo dos produtos.
 - (E) manter em lugares separados alimentos e materiais de limpeza.

58. Nos serviços de copa, é importante observar o destino a ser dado para o lixo. Sobre o armazenamento do lixo, um dos procedimentos a ser destacado é
- (A) a possibilidade de reduzir o número de recipientes de lixo e juntar o lixo da copa com o das outras seções.
 - (B) a dispensa de sacos plásticos nos recipientes de lixo.
 - (C) a necessidade de manter o recipiente do lixo sempre tampado.
 - (D) o recolhimento do lixo em dias alternados da semana.
 - (E) a manutenção do recipiente de lixo junto ao fogão.

59. No serviço de copa é correto
- (A) lavar os utensílios como bules e garrafas térmicas somente quando se fizer o café.
 - (B) proceder à limpeza diária do fogão, da pia e do piso da copa.
 - (C) utilizar esponja de aço para a limpeza de utensílios de aço inoxidável.
 - (D) colocar cinzeiros perto das mesas.
 - (E) retirar a válvula de segurança do botijão de gás quando o fogão não estiver sendo utilizado.

60. Poucos dias após assumir seu cargo, o chefe do Auxiliar Judiciário de Serviços Gerais solicitou que ele fosse ao arquivo morto realizar uma tarefa. O Auxiliar quis saber o que era isso e o chefe lhe explicou que a finalidade do arquivo morto é
- (A) conservar os documentos antigos do Tribunal que não são consultados com regularidade.
 - (B) manter preservados todos os processos do Tribunal ainda em andamento.
 - (C) armazenar o banco de dados mais atualizado do Tribunal.
 - (D) depositar equipamentos do Tribunal em mau estado de conservação.
 - (E) guardar objetos perdidos ou esquecidos pelos usuários do Tribunal.